

Guía repaso fracciones

Nombre: _____ Curso: 5° Fecha: ___/11/2021

Objetivo: Reconocer fracciones, propias, impropias y números mixtos, leer y escribir fracciones impropias y números mixtos y representarlas en regiones y conjuntos.

1) Clasifica las siguientes fracciones como propias, impropias y números mixtos. Encierra en un círculo las fracciones propias, en un rectángulos las impropias y en un triángulos los números mixtos.

a) $\frac{4}{7}$

e) $\frac{9}{7}$

i) $3\frac{1}{3}$

b) $\frac{17}{21}$

f) $1\frac{5}{8}$

j) $\frac{2}{15}$

c) $4\frac{2}{5}$

g) $\frac{6}{21}$

k) $\frac{17}{5}$

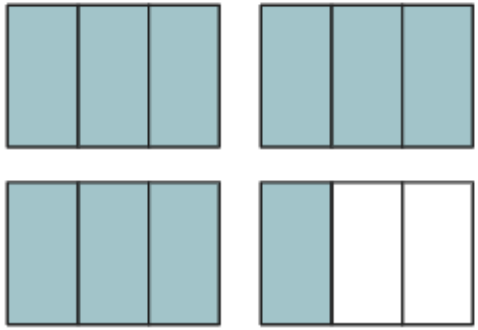
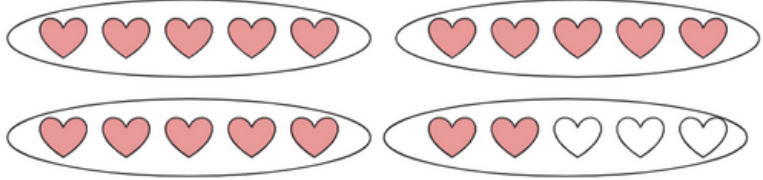
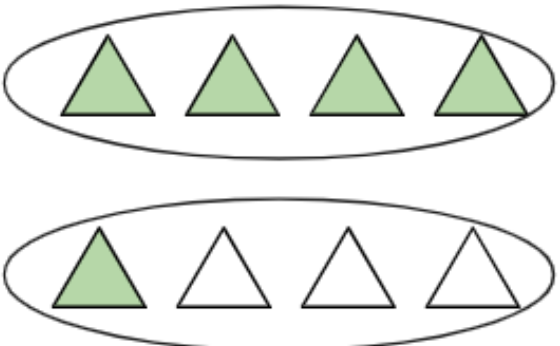
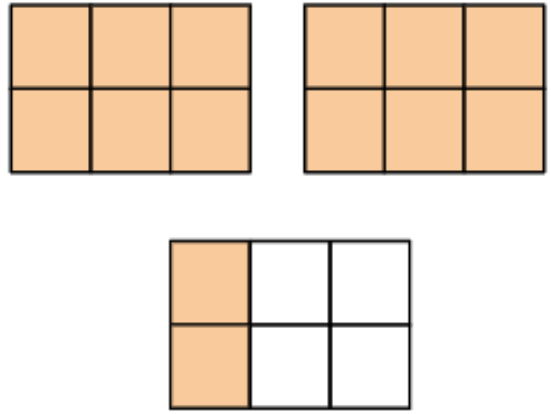
d) $\frac{12}{5}$

h) $\frac{13}{8}$

l) $\frac{13}{23}$

2) Completa la tabla según corresponda con la lectura y escritura de fracciones

FRACCIÓN	SE LEE	¿PROPIA, IMPROPIA O NÚMERO MIXTO?
$\frac{5}{9}$		
$\frac{12}{11}$		
$\frac{4}{23}$		
$2\frac{1}{2}$		
$\frac{18}{4}$		

Fracción impropia	Número mixto	Representación en región	Representación en conjunto
$\frac{29}{6}$			
	$3\frac{3}{4}$		
			
			
			
			
	$4\frac{2}{7}$		
$\frac{33}{5}$			