



## Guía de matemática.

Nombre:


Curso:



Fecha:



**Objetivo:** Resolver adiciones y sustracciones hasta el 100.


Crear historias matemáticas a partir de una imagen.


### Actividad.


1. - Observa, **resuelve** y **colorea** la **respuesta correcta** de las siguientes adiciones y sustracciones.


 $75 - 3 = ?$		
71	72	73


 $29 - 8 = ?$		
21	31	22


 $48 - 6 = ?$		
44	43	42


 $16 - 3 = ?$		
13	12	14

 $94 - 1 = ?$		
92	93	90




 $88 - 44 = ?$		
43	45	44

 $53 + 15 = ?$		
67	68	70





 $66 + 12 = ?$		
78	77	79

 $45 + 4 = ?$		
50	49	48







 $33+26=?$	 $78+21=?$	 $15+3$
58   60   59	99   100   98	19   20   18


$13-3=$	10	$9-5=$	5	$16-4=$	10	$19-6=$	2
	9		4		11		3
	8		3		12		4

$12-3=$	8	$20-11=$	11	$11-4=$	7	$10-8=$	1
	9		10		8		2
	10		9		9		3


2. Completa con los números faltantes en las adiciones.

 $26 + \underline{\quad} = 29$	 $27 + \underline{\quad} = 30$
7   8   3   10	3   13   10   7
 $15 + \underline{\quad} = 27$	 $22 + \underline{\quad} = 32$
8   2   12   10	10   1   12   2




  $63 + \underline{\quad} = 66$


7	8	3	10
---	---	---	----

  $33 + \underline{\quad} = 46$

3	13	10	7
---	----	----	---

  $84 + \underline{\quad} = 86$

8	2	12	10
---	---	----	----

  $92 + \underline{\quad} = 93$

10	1	12	2
----	---	----	---

2. Observa la imagen, crea, escribe y resuelve tu historia matemática, recuerda usar números mayores a 20, con color **rojo** marcar los **datos** y con azul subrayar las preguntas.

a.



<p><b>Historia:</b></p> <hr/> <hr/> <hr/> <hr/> <hr/>	<p><b>Operación:</b></p> <table border="1" style="margin-left: auto; margin-right: auto;"> <tr> <td style="background-color: red; color: white; text-align: center;">D</td> <td style="background-color: blue; color: white; text-align: center;">U</td> </tr> <tr> <td> </td> <td> </td> </tr> <tr> <td> </td> <td> </td> </tr> <tr> <td> </td> <td> </td> </tr> </table>	D	U						
D	U								
<p><b>Respuesta:</b></p> <hr/> <hr/>									



b.



**Historia:**

---

---

---

---

---

**Operación:**

D	U

**Respuesta:**

---

---

c.



**Historia:**

---

---

---

---

---

**Operación:**


D	U

**Respuesta:**

---




---












Ticket de salida.	<p><b>Crea y resuelve</b> una <b>historia matemática</b>, no olvides colocar en <b>rojo</b> los <b>datos</b> y <b>subrayar</b> con azul la <b>pregunta</b>.</p> <p><b>Crear:</b> _____          _____          _____          _____</p> <p><b>Respuesta:</b> _____          _____</p>	 <b>Resolver</b> <table border="1" style="margin-left: auto; margin-right: auto;"> <tr> <td style="background-color: red; color: white;">D</td> <td style="background-color: blue; color: white;">U</td> </tr> <tr> <td> </td> <td> </td> </tr> <tr> <td> </td> <td> </td> </tr> <tr> <td> </td> <td> </td> </tr> </table>	D	U						
D	U									

**Autoevaluación:**

**Marca** con una **X** la **carita** que mejor refleje la respuesta a las siguientes preguntas.

 <b>Siempre</b>	 <b>A veces</b>	 <b>Me falta</b>
--	--	---

Sigo las instrucciones (levante la mano, utilice material concreto, otros).	 Siempre	 A veces	 Me falta
Pude realizar la guía de manera independiente.	 Siempre	 A veces	 Me falta
Pregunto y aclaro mis dudas con la profesora.	 Siempre	 A veces	 Me falta