





Matemática - Primero básico

Prof. Mirza Gutiérrez C.

Prof. Nicole Villarroel

Comparar y ordenar números del 0 al 100.



8 de noviembre





Matemática - Primero básico

Prof. Mirza Gutiérrez C.

Prof. Nicole Villarroel

Objetivo:

OA 4. Comparar y ordenar números del 0 al 100 de menor a mayor y/o viceversa, utilizando material concreto y/o usando software educativo.



Matemática - Primero básico

Prof. Mirza Gutiérrez C.

Prof. Nicole Villarroel

Ruta de aprendizaje.

Cáculo mental

mayor, menor
e igual

Ejemplo

Actividades

Ticket de salida

Autoevaluación

Tarea

Metacognición



Matemática - Primero básico

Prof. Mirza Gutiérrez C.

Prof. Nicole Villarroel

Practiquemos el Cálculo Mental

	D	U
	5	7
+	4	2
<hr/>		

	D	U
	8	8
+	1	0
<hr/>		

	D	U
	4	6
+		3
<hr/>		

	D	U
	7	1
+	3	8
<hr/>		

	D	U
	8	9
-	7	5
<hr/>		

	D	U
	5	4
-	3	1
<hr/>		

	D	U
	3	1
-	3	0
<hr/>		

	D	U
	6	5
-		5
<hr/>		



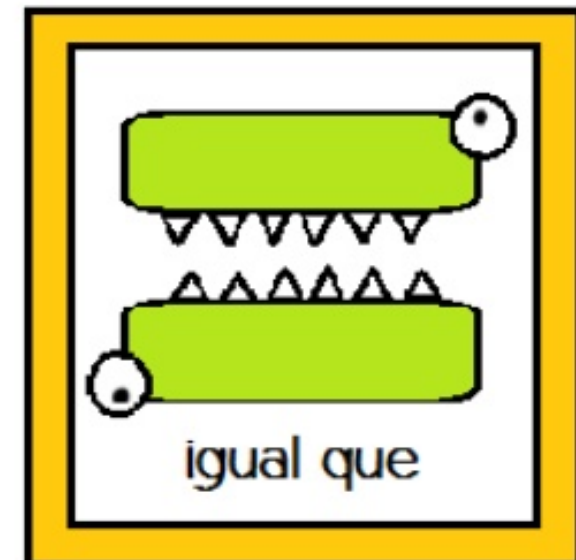
Matemática - Primero básico

Prof. Mirza Gutiérrez C.

Prof. Nicole Villarroel



SÍMBOLOS MATEMÁTICOS






Matemática - Primero básico

Prof. Mirza Gutiérrez C.

Prof. Nicole Villarroel

Observa el ejemplo.






Matemática - Primero básico

Prof. Mirza Gutiérrez C.


Prof. Nicole Villarroel

Practica - compara números.



5	<input type="checkbox"/>
10	<input type="checkbox"/>
4	<input type="checkbox"/>
7	<input type="checkbox"/>
2	<input type="checkbox"/>
9	<input type="checkbox"/>

8	<input type="checkbox"/>
10	<input type="checkbox"/>
3	<input type="checkbox"/>
0	<input type="checkbox"/>
5	<input type="checkbox"/>
5	<input type="checkbox"/>






Matemática - Primero básico

Prof. Mirza Gutiérrez C.

Prof. Nicole Villarroel

Practica - compara números.



$13 \square 14$

$19 \square 19$

$15 \square 20$

$59 \square 22$

$21 \square 49$

$18 \square 18$

$29 \square 12$

$36 \square 31$

$48 \square 58$

$45 \square 51$

$30 \square 39$

$28 \square 40$

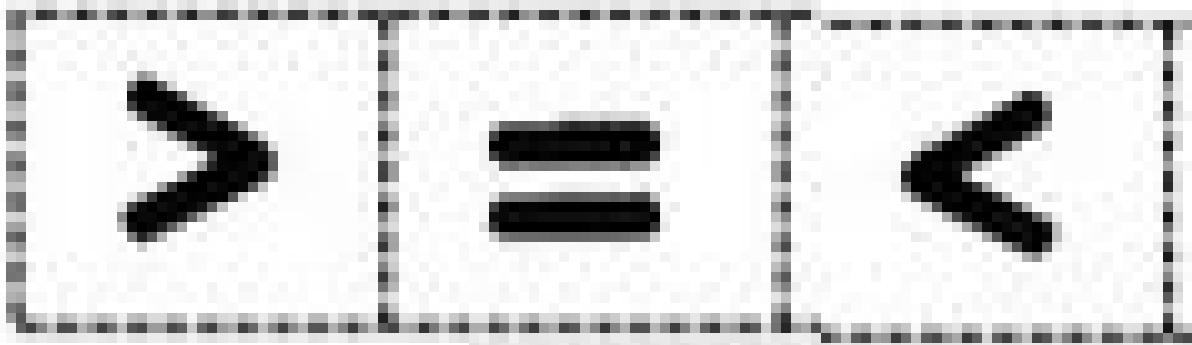


Matemática - Primero básico

Prof. Mirza Gutiérrez C.

Prof. Nicole Villarroel

Practica - compara números.



$12 \square 12$

$13 \square 12$

$20 \square 16$

$17 \square 19$

$18 \square 18$

$15 \square 12$

$13 \square 11$

$14 \square 16$

$11 \square 12$

$11 \square 14$

$15 \square 16$

$20 \square 17$



Matemática - Primero básico

Prof. Mirza Gutiérrez C.

Prof. Nicole Villarroel

Completa con los signos $<$, $>$ o $=$.



$2 \bigcirc 7$

$48 \bigcirc 58$

$99 \bigcirc 99$

$13 \bigcirc 11$

$95 \bigcirc 59$

$16 \bigcirc 46$

$30 \bigcirc 30$

$71 \bigcirc 17$

$83 \bigcirc 79$



Matemática - Primero básico

Prof. Mirza Gutiérrez C.

Prof. Nicole Villarroel

Ordena los siguientes números de menor a mayor.

3 5 4 7 1 6

○ < ○ < ○ < ○ < ○ < ○

12 23 15 7 22 18

○ < ○ < ○ < ○ < ○ < ○



Matemática - Primero básico

Prof. Mirza Gutiérrez C.

Prof. Nicole Villarroel

Ordena los siguientes números de mayor a menor.

11 43 6 52 16 23

○ > ○ > ○ > ○ > ○ > ○

17 60 12 19 35 42

○ > ○ > ○ > ○ > ○ > ○



Matemática - Primero básico

Prof. Mirza Gutiérrez C.

Prof. Nicole Villarroel

Ticket de salida.

Pinta la letra V, si la afirmación es verdadera o la letra F si es falsa.

29 es menor que 26. V F

35 es mayor que 31. V F

47 es mayor que 74. V F

68 es menor que 86. V F

92 es menor que 94. V F

77 es mayor que 79. V F



Matemática - Primero básico

Prof. Mirza Gutiérrez C.

Prof. Nicole Villarroel

Autoevaluación:

Marca con una X la carita que mejor refleje la respuesta a las siguientes preguntas.




Siempre












A veces



Me falta



Sigo las instrucciones (levante la mano, utilice material concreto, otros).	 Siempre	 A veces	 Me falta
Pude realizar la guía de manera independiente.	 Siempre	 A veces	 Me falta
Pregunto y aclaro mis dudas con la profesora.	 Siempre	 A veces	 Me falta



Matemática - Primero básico

Prof. Mirza Gutiérrez C.

Prof. Nicole Villarroel

Tarea:

Guía de actividades.



Matemática - Primero básico

Prof. Mirza Gutiérrez C.

Prof. Nicole Villarroel



- **Responde:**

- ¿Qué aprendiste hoy y por qué crees que lo lograste?

Al realizar todas las actividades, te diste cuenta que lo más difícil para ti fue: _____

¿Por qué crees que eso fue lo más difícil? _____

