

Usando Modelos

Adición y sustracción



Contenido elaborado por: Loreto Jullian



CURRÍCULUMENLÍNEA
Recursos para el aprendizaje MINEDUC



Voy a aprender a...

Sumar y restar con el apoyo de los modelos.



y me va a servir para...


Entender lo que es juntar y separar.



¡Aprendamos a sumar y restar!



Francisca está haciendo 10 muñecas de trapo.
Graciela está haciendo 23 muñecas de trapo.
¿Cuántas muñecas hicieron en total?



Ellas hicieron 33 muñecas en total.

$$\begin{array}{r} 10 \\ +23 \\ \hline 33 \end{array}$$



Pedro tiene 14 autitos.

Diego tiene 24 autitos.

¿Cuántos autitos tienen entre los dos?



14

24


¿?

Ellos tienen 38 autitos en total.

$$\begin{array}{r} 14 \\ +24 \\ \hline 38 \end{array}$$



Sofía tiene 28 fichas rojas y azules.
Tiene 13 rojas.
¿Cuántas fichas azules tiene?

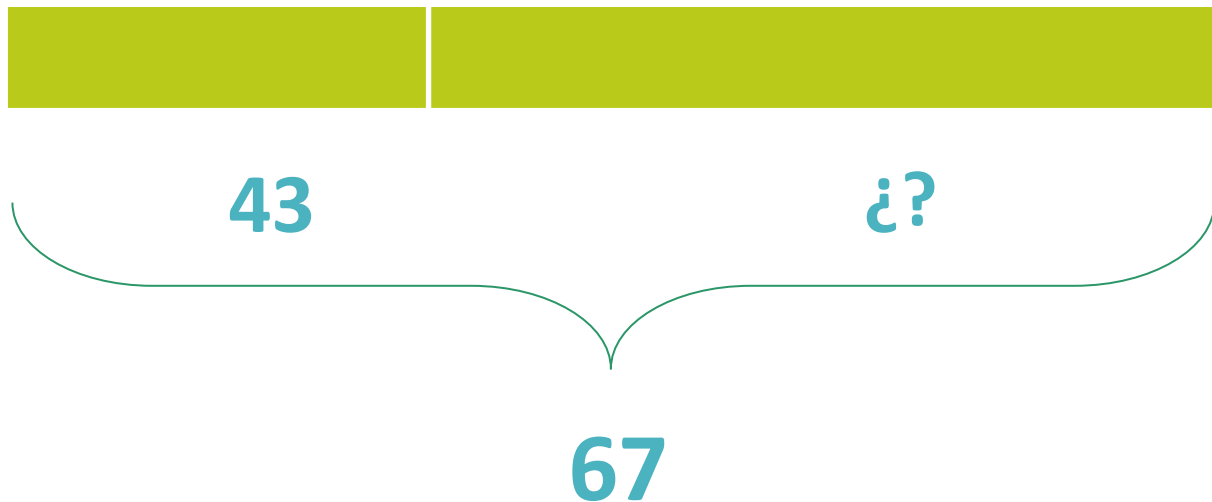


Sofía tiene 15 fichas azules.

$$\begin{array}{r} 28 \\ - 13 \\ \hline 15 \end{array}$$



Juan recorre 67 kilómetros para llegar a su casa.
Lleva 43 kilómetros recorridos.
¿Cuánto le falta para llegar?



A Juan le quedan 24 kms por recorrer.

$$\begin{array}{r} 67 \\ - 43 \\ \hline 24 \end{array}$$

¿cómo le fue?

