



## Guía de matemática.

Nombre: 

--

Curso: 



      Fecha: 


**Objetivo:** Resolver y crear historias matemáticas con numeración hasta el 60.

### Actividad.

1. Resuelve las siguientes historias matemáticas.

En la caja había 3 fichas y echamos otras 3.




¿Cuántas fichas hay ahora?

Anota tus cálculos.


Respuesta:  
Ahora hay ..... fichas.

La señora Berta tiene un puesto de venta de juguetes para Navidad.  
 Vendió 4 peluches y 2 autitos.  
 ¿Cuántos juguetes vendió?



Anota tus cálculos.

Respuesta:  
La señora Berta vendió ..... juguetes.




Don Matías tiene 16 animales entre ovejas y cabras.  
 Tiene 5 cabras.

¿Cuántas ovejas tiene don Matías?

Anota tus cálculos:

Respuesta:  
Don Matías tiene ..... ovejas.

En el patio andaban 4 hormigas.  
 Llegaron otras 10 hormigas.



¿Cuántas hormigas hay ahora?

Anota tus cálculos:

Respuesta:  
Ahora hay ..... hormigas.



<p>Traje 20 dulces</p>	<p>Y yo traje estos</p>	<p>Ahora que juntamos los dulces, tenemos ___ dulces</p>
Anota tus cálculos:		

<p>Saquemos naranjas y las juntamos en un canasto.</p> <p>Saqué 16 naranjas</p> <p>Y yo saqué 4</p>	<p>¿Cuántas naranjas hay en el canasto?</p> <p>Hay ..... naranjas.</p>
Anota tus cálculos:	

<p>Echemos las naranjas en un canasto.</p> <p>Había 13 naranjas y yo eché 6 más</p>	<p>¿Cuántas naranjas hay ahora en el canasto?</p> <p>Hay ..... naranjas.</p>
Anota tus cálculos:	


<p>Tengo 5 lápices</p>	<p>Y yo también</p>	<p>Ahora que juntamos los lápices, hay el doble</p>
¿Cuántos lápices hay? Hay ..... lápices. Anota tus cálculos:		


<p>Diego tenía estos perritos.</p>	<p>Y le regalaron estos otros.</p>	<p>Ahora tiene el doble.</p> <p>¿Cuántos perritos tiene Diego?</p> <p>Tiene ..... perritos.</p>
Anota tus cálculos:		



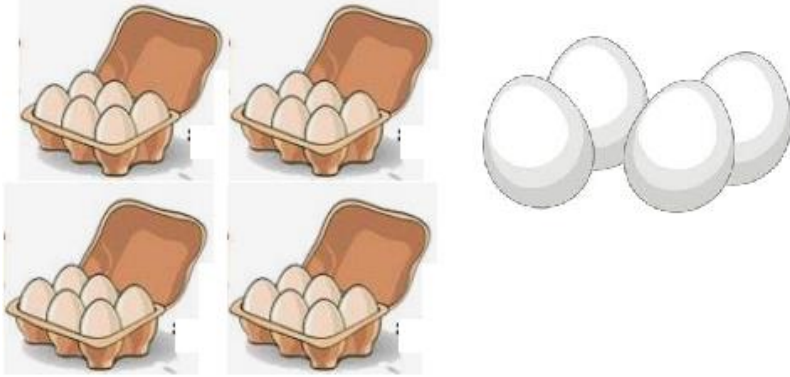
## 2. Observa y crea historias matemáticas.

		
<b><u>Historia matemática</u></b>	<b><u>Frase numérica</u></b>	<b><u>Respuesta</u></b>

		
<b><u>Historia matemática</u></b>	<b><u>Frase numérica</u></b>	<b><u>Respuesta</u></b>


		
<b><u>Historia matemática</u></b>	<b><u>Frase numérica</u></b>	<b><u>Respuesta</u></b>









		
<u>Historia matemática</u>	<u>Frase numérica</u>	<u>Respuesta</u>

**Autoevaluación:**

Colorea la carita que mejor refleje la respuesta a las siguientes preguntas.



Sigo las instrucciones para realizar la guía.	  
Pregunto y aclaro mis dudas con la profesora.	  
Termine la guía en el tiempo establecido.	