



Guía de matemática.

Nombre:

| |
|--|
| |
|--|

Curso:

| |
|--|
| |
|--|

Fecha:

| |
|--|
| |
|--|

Objetivo: Resolver adiciones y sustracciones hasta el 60, mediante historias matemáticas.

Actividad.

1. Resuelve las siguientes adiciones.

$$\begin{array}{r} \text{D} \quad \text{U} \\ 3 \quad 2 \\ + 1 \quad 1 \\ \hline \square \quad \square \end{array}$$

$$\begin{array}{r} \text{D} \quad \text{U} \\ 2 \quad 1 \\ + 2 \quad 2 \\ \hline \square \quad \square \end{array}$$

$$\begin{array}{r} \text{D} \quad \text{U} \\ 4 \quad 5 \\ + \quad 1 \\ \hline \square \quad \square \end{array}$$

$$\begin{array}{r} \text{D} \quad \text{U} \\ 4 \quad 1 \\ + 1 \quad 2 \\ \hline \square \quad \square \end{array}$$

$$\begin{array}{r} \text{D} \quad \text{U} \\ 2 \quad 4 \\ + 2 \quad 3 \\ \hline \square \quad \square \end{array}$$

$$\begin{array}{r} \text{D} \quad \text{U} \\ 2 \quad 3 \\ + \quad 0 \\ \hline \square \quad \square \end{array}$$

$$\begin{array}{r} \text{D} \quad \text{U} \\ 2 \quad 8 \\ + 2 \quad 1 \\ \hline \square \quad \square \end{array}$$

$$\begin{array}{r} \text{D} \quad \text{U} \\ 4 \quad 2 \\ + 1 \quad 1 \\ \hline \square \quad \square \end{array}$$

$$\begin{array}{r} \text{D} \quad \text{U} \\ 3 \quad 5 \\ + 2 \quad 1 \\ \hline \square \quad \square \end{array}$$

$$\begin{array}{r} \text{D} \quad \text{U} \\ 2 \quad 5 \\ + 1 \quad 0 \\ \hline \square \quad \square \end{array}$$

$$\begin{array}{r} \text{D} \quad \text{U} \\ 4 \quad 4 \\ + 1 \quad 2 \\ \hline \square \quad \square \end{array}$$

$$\begin{array}{r} \text{D} \quad \text{U} \\ 4 \quad 6 \\ + 1 \quad 2 \\ \hline \square \quad \square \end{array}$$



2. Resuelve las siguientes sustracciones.

| D | U |
|-------|-----|
| 3 | 2 |
| - 1 | - 2 |
| <hr/> | |
| | |

| D | U |
|-------|-----|
| 4 | 4 |
| | - 3 |
| <hr/> | |
| | |

| D | U |
|-------|-----|
| 2 | 2 |
| - 1 | - 1 |
| <hr/> | |
| | |

| D | U |
|-------|-----|
| 2 | 8 |
| - 1 | - 1 |
| <hr/> | |
| | |

| D | U |
|-------|-----|
| 3 | 3 |
| - 1 | - 1 |
| <hr/> | |
| | |

| D | U |
|-------|-----|
| 3 | 4 |
| - 1 | - 3 |
| <hr/> | |
| | |

| D | U |
|-------|-----|
| 3 | 8 |
| - 2 | - 0 |
| <hr/> | |
| | |

| D | U |
|-------|-----|
| 2 | 7 |
| - 1 | - 5 |
| <hr/> | |
| | |

| D | U |
|-------|-----|
| 1 | 2 |
| - 1 | - 1 |
| <hr/> | |
| | |

| D | U |
|-------|-----|
| 5 | 8 |
| - 2 | - 4 |
| <hr/> | |
| | |

| D | U |
|-------|-----|
| 3 | 7 |
| - 2 | - 6 |
| <hr/> | |
| | |

| D | U |
|-------|-----|
| 4 | 9 |
| - 1 | - 1 |
| <hr/> | |
| | |



3. Identifica, ubica y resuelve las adiciones y sustracciones.


| | | |
|-----------|-----------|-----------|
| $12 + 17$ | $23 + 4$ | $13 + 15$ |
| | | |
| $14 - 10$ | $18 - 11$ | $24 - 2$ |
| | | |

4. Resuelve las siguientes historias matemáticas.

| | |
|---------------------|--|
| | <p>Martín ayudó a su mamá a cosechar duraznos de su huerto. La mamá cosechó: 33 duraznos y Martín 14. ¿Cuántos duraznos cosecharon entre los dos?</p> |
| Anota tus cálculos. | <p>Respuesta: Entre los dos cosecharon duraznos.</p> |

| | |
|---|---|
| <p>En la casa de Romina había 59 huevos. Ella ocupó 6 huevos para hacer un queque. ¿Cuántos huevos quedaron?</p> | |
| <p>Anota tus cálculos.</p> | <p>Respuesta: Quedaron huevos.</p> |





Don Patricio tenía en su rebaño 44 ovejas.
 Acaban de nacer otras 3.
 ¿Cuántas ovejas tiene ahora?


Anota tus cálculos.

Respuesta:
 Don Patricio tiene ahora ovejas.

Alicia cumplió 37 años.
 Al apagar las velas de la torta que le hicieron sus padres, quedaron 22 encendidas. ¿Cuántas velas apagó?

Anota tus cálculos.

Respuesta:
 Alicia apagó velas.




En mi curso somos 15 estudiantes.
 Hoy faltaron 4.
 ¿Cuántos estudiantes asistieron a clases?

Anota tus cálculos.


Respuesta:
 Asistieron a clases estudiantes.

Autoevaluación:


Colorea la **carita** que mejor refleje la respuesta a las siguientes preguntas.












Muy bien



Regular



Mal

| | |
|---|--|
| Sigo las instrucciones para realizar la guía. |    |
| Pregunto y aclaro mis dudas con la profesora. |    |
| Termine la guía en el tiempo establecido. |    |