



Guía de matemática - clase N°2.

Nombre:

Curso:

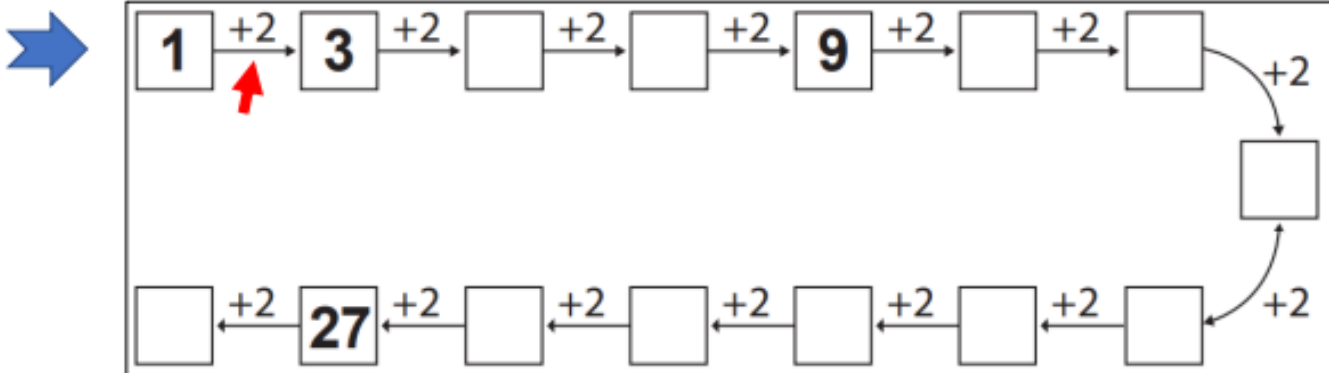
Fecha:

Objetivo: Resolver adiciones y sustracciones hasta el 100, mediante historias matemáticas.

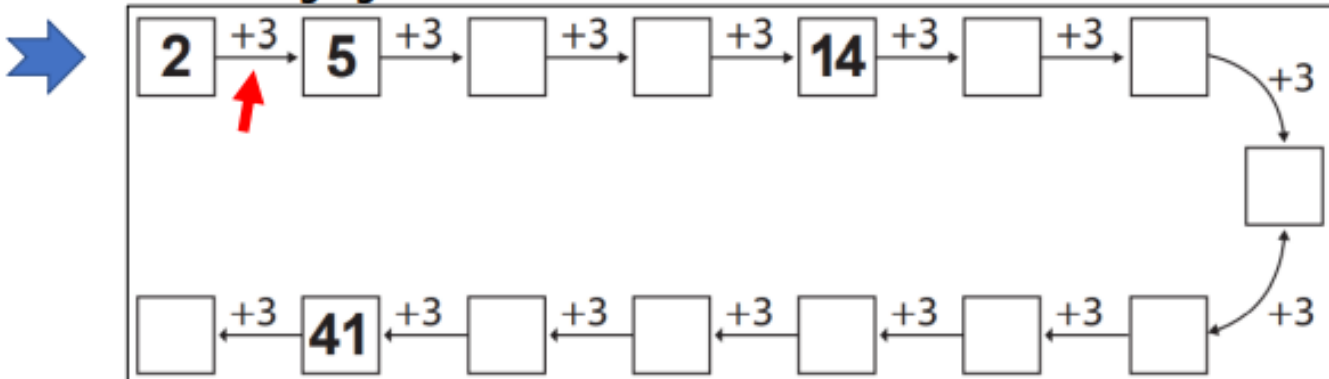
Actividad.

1. Resuelve como se indica y completa los cuadros.

> Suma agregando 2.



> Suma agregando 3.





2. Resuelve las siguientes sumas y restas. Recuerda comenzar desde las unidades y luego por las decenas.

$\begin{array}{r} \text{DU} \\ 80 \\ - 20 \\ \hline \end{array}$	$\begin{array}{r} \text{DU} \\ 68 \\ + 70 \\ \hline \end{array}$	$\begin{array}{r} \text{DU} \\ 88 \\ - 70 \\ \hline \end{array}$	$\begin{array}{r} \text{DU} \\ 48 \\ + 47 \\ \hline \end{array}$
$\begin{array}{r} \text{DU} \\ 90 \\ - 40 \\ \hline \end{array}$	$\begin{array}{r} \text{DU} \\ 45 \\ + 80 \\ \hline \end{array}$	$\begin{array}{r} \text{DU} \\ 59 \\ - 40 \\ \hline \end{array}$	$\begin{array}{r} \text{DU} \\ 61 \\ + 23 \\ \hline \end{array}$
$\begin{array}{r} \text{DU} \\ 85 \\ - 32 \\ \hline \end{array}$	$\begin{array}{r} \text{DU} \\ 20 \\ + 21 \\ \hline \end{array}$	$\begin{array}{r} \text{DU} \\ 17 \\ - 2 \\ \hline \end{array}$	$\begin{array}{r} \text{DU} \\ 89 \\ + 11 \\ \hline \end{array}$
$\begin{array}{r} \text{DU} \\ 53 \\ - 12 \\ \hline \end{array}$	$\begin{array}{r} \text{DU} \\ 35 \\ + 14 \\ \hline \end{array}$	$\begin{array}{r} \text{DU} \\ 19 \\ - 2 \\ \hline \end{array}$	$\begin{array}{r} \text{DU} \\ 53 \\ + 35 \\ \hline \end{array}$



$\begin{array}{r} \text{DU} \\ 53 \\ - 21 \\ \hline \square \end{array}$	$\begin{array}{r} \text{DU} \\ 19 \\ - 6 \\ \hline \square \end{array}$	$\begin{array}{r} \text{DU} \\ 58 \\ - 16 \\ \hline \square \end{array}$	$\begin{array}{r} \text{DU} \\ 75 \\ - 73 \\ \hline \square \end{array}$
$\begin{array}{r} \text{DU} \\ 95 \\ - 52 \\ \hline \square \end{array}$	$\begin{array}{r} \text{DU} \\ 28 \\ - 25 \\ \hline \square \end{array}$	$\begin{array}{r} \text{DU} \\ 64 \\ - 62 \\ \hline \square \end{array}$	$\begin{array}{r} \text{DU} \\ 40 \\ - 10 \\ \hline \square \end{array}$
$\begin{array}{r} \text{DU} \\ 79 \\ - 64 \\ \hline \square \end{array}$	$\begin{array}{r} \text{DU} \\ 82 \\ - 61 \\ \hline \square \end{array}$	$\begin{array}{r} \text{DU} \\ 97 \\ - 62 \\ \hline \square \end{array}$	$\begin{array}{r} \text{DU} \\ 89 \\ - 32 \\ \hline \square \end{array}$
$\begin{array}{r} \text{DU} \\ 38 \\ - 23 \\ \hline \square \end{array}$	$\begin{array}{r} \text{DU} \\ 97 \\ - 66 \\ \hline \square \end{array}$	$\begin{array}{r} \text{DU} \\ 86 \\ - 52 \\ \hline \square \end{array}$	$\begin{array}{r} \text{DU} \\ 48 \\ - 24 \\ \hline \square \end{array}$



3. Resuelve las siguientes historias matemáticas.

- Recuerda leer el problema con mucha atención.
- Identifica los datos.
- Identifica si es suma o resta y resuelve.

1

Cecilia recogió ayer 42 setas. Hoy ha recogido 25 setas más.
¿Cuántas setas ha recogido en total?



+ _____



En total

2

Inés compró 64 castañas. Le han dado 32 castañas más.
¿Cuántas castañas tiene en total?



+ _____



3

Andrés tenía 85 aviones. Su papá le dio 13 más.
¿Cuántos aviones tiene en total?



+ _____







4. Observa y resuelve cada situación y responde a las siguientes preguntas ¿Cuántas piezas quedan por colocar?










<p>He colocado 54 piezas.</p> $\begin{array}{r} 78 \\ -54 \\ \hline \square \end{array}$ <p>$\square - \square = \square$</p> <p>Quedan \square piezas.</p>	<p>He colocado 63 piezas.</p> $\begin{array}{r} 96 \\ -63 \\ \hline \square \end{array}$ <p>$\square - \square = \square$</p> <p>Quedan \square piezas.</p>
<p>He colocado 42 piezas.</p> $\begin{array}{r} \square \\ - \square \\ \hline \square \end{array}$ <p>$\square - \square = \square$</p> <p>Quedan \square piezas.</p>	<p>He colocado 45 piezas.</p> $\begin{array}{r} \square \\ - \square \\ \hline \square \end{array}$ <p>$\square - \square = \square$</p> <p>Quedan \square piezas.</p>



Autoevaluación:

Marca con una X la carita que mejor refleje la respuesta a las siguientes preguntas.

 Siempre	 A veces	 Me falta
---	---	--

Sigo las instrucciones (levante la mano, utilice material concreto, otros).	 Siempre	 A veces	 Me falta
Pude realizar la guía de manera independiente.	 Siempre	 A veces	 Me falta
Pregunto y aclaro mis dudas con la profesora.	 Siempre	 A veces	 Me falta

Ticket de salida.

➤ Suma agregando 5.

2	$+5$	7	$+5$	□	$+5$	□	$+5$	22	$+5$	□	$+5$	□
<div style="display: flex; justify-content: space-between; align-items: center;"> <div style="margin-top: 20px;">□</div> <div style="margin-top: 20px;">$+5$</div> <div style="margin-top: 20px;">67</div> <div style="margin-top: 20px;">$+5$</div> <div style="margin-top: 20px;">□</div> <div style="margin-top: 20px;">$+5$</div> <div style="margin-top: 20px;">□</div> <div style="margin-top: 20px;">$+5$</div> <div style="margin-top: 20px;">□</div> <div style="margin-top: 20px;">$+5$</div> <div style="margin-top: 20px;">□</div> <div style="margin-top: 20px;">$+5$</div> <div style="margin-top: 20px;">□</div> <div style="margin-top: 20px;">$+5$</div> <div style="margin-top: 20px;">□</div> </div>												