



Guía de matemática.

Nombre:

Curso:


Fecha:

Objetivo: Contar de 1 en 1, 2 en 2, 5 en 5, 10 en 10 hasta 100.

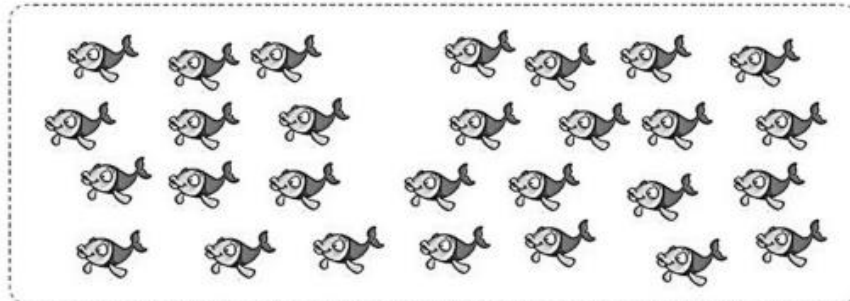
Actividad.

1. **Cuenta** los peces según se indique y **escribe** la **cantidad** en el **recuadro**. Encierra las **agrupaciones** 2 en 2, 10 en 10, 5 en 5.


De 2 en 2.



De 10 en 10.



De 5 en 5.





2. Completa la secuencia numérica.

a) Cuenta de 2 en 2 hacia adelante

20							
----	--	--	--	--	--	--	--

52							
----	--	--	--	--	--	--	--

b) Cuenta de 10 en 10 hacia atrás.

70				
----	--	--	--	--

100				
-----	--	--	--	--

c) Cuenta de 5 en 5 hacia adelante.

5							
---	--	--	--	--	--	--	--

60							
----	--	--	--	--	--	--	--

3. Completa las siguientes secuencias numéricas.

1.-

2	4			10			16		20
	24	25		30	32		36		

2.-

100			70	

3.-

25		35		45	
55			70		80

4.-

68	70			76	78		82
	86		90		94		98

5.

95	90			75			50
		35				15	10



4. Cuenta las siguientes monedas y escribe la cantidad de dinero que obtienes:

a)  = _____

b)  = _____

c)  = _____

d)  = _____

e)  = _____

f)  = _____

g)  = _____

h)  = _____

i)  = _____

j)  = _____



5. Encierra la cantidad de monedas que necesitas para comprar los siguientes productos:

a)

--	--

b)

--	--

c)

--	--


d)

--	--




6. Dibuja la cantidad monedas según corresponde a cada ejercicio:

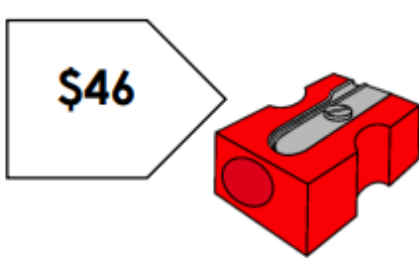
a) Representa con moneda de \$10 y \$5 el precio del producto:

	
--	--


b) Representa con monedas de \$50 y \$1 el precio del producto:

	
--	--

c) Representa con monedas de \$10 y \$1 el precio del producto:

	
--	--

d) Representa usando monedas de \$50 \$10 y \$5 el precio del producto:




	
--	--












Cuenta de 10 en 10 y luego escribe en palabras la cifra.					
Ticket de salida.	10				
	↓	↓	↓	↓	↓
	diez				
	60				
	↓	↓	↓	↓	
					cien

Autoevaluación:

Marca con una **X** la carita que mejor refleje la respuesta a las siguientes preguntas.

 Siempre	 A veces	 Me falta
---	---	--

Sigo las instrucciones (levante la mano, utilice material concreto, otros).	 Siempre	 A veces	 Me falta
Pude realizar la guía de manera independiente.	 Siempre	 A veces	 Me falta
Pregunto y aclaro mis dudas con la profesora.	 Siempre	 A veces	 Me falta