



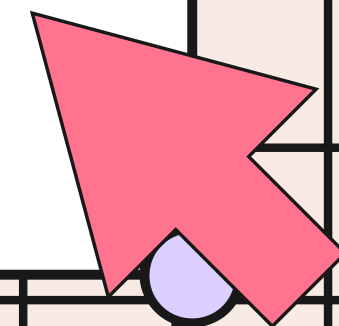
Matemática - Primero Básico

Prof. Mirza Gutiérrez C.

Prof. Nicole Villarroel

Expresiones matemáticas para resolver historias matemáticas.

29 y 30 de septiembre.



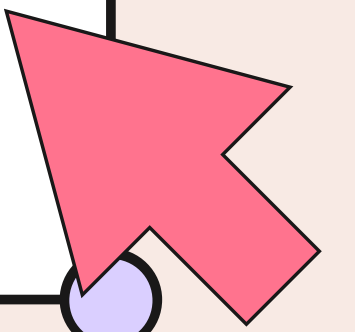


Matemática - Primero Básico

Prof. Mirza Gutiérrez C.

Prof. Nicole Villarroel.

Objetivo: Utilizar expresiones matemáticas para resolver problemas de adición





Matemática - Primero Básico

Prof. Mirza Gutiérrez C.

Prof. Nicole Villarroel.

Ruta de aprendizaje.

Cálculo mental

Historia
matemática

Juego Bingo
matemático

Historia
matemática

Resolver
adiciones

Historia
matemática

Ticket de salida

Tarea



Matemática - Primero Básico

Prof. Mirza Gutiérrez C.

Prof. Nicole Villarroel.

Cálculo Mental

a. $15 + 3 =$

b. $22 + 6 =$


c. $18 + 2 =$

d. $35 + 4 =$

e. $43 + 6 =$

f. $54 + 4 =$



g. $58 + 2 =$





Escucha y observa la siguiente historia matemática y resuelve.

Hay 16 niñas en un parque y 5 de ellas estaban saltando la cuerda, ¿Cuántas no estaban saltando?





Juego Bingo matemático.

a. $13+10$

b. $16-6$

c. $10+18$

d. $13+4$

e. $18-6$

f. $48+2$

g. $22+2$

h. $39-4$


i. $12-6$

e.	c.	g.
a.	h.	d.
i.	b.	f.



Historia matemática

Me acaba de llamar mi hermana Lissette para pedirme ayuda, ella se encuentra en el segundo piso de un edificio, debe subir al piso 8 y quiere saber ¿Cuántos pisos le faltan por subir.?





¿Qué datos tenemos? Que está en el piso 2 y debe subir al piso 8.
Entonces, debemos calcular 2 más que cantidad da como resultado 8.

$$2 + \underline{\hspace{2cm}} = 8$$

Para calcular, vamos a dibujar 8 círculos y coloreamos 2.



¿Cuántos quedaron sin pintar?

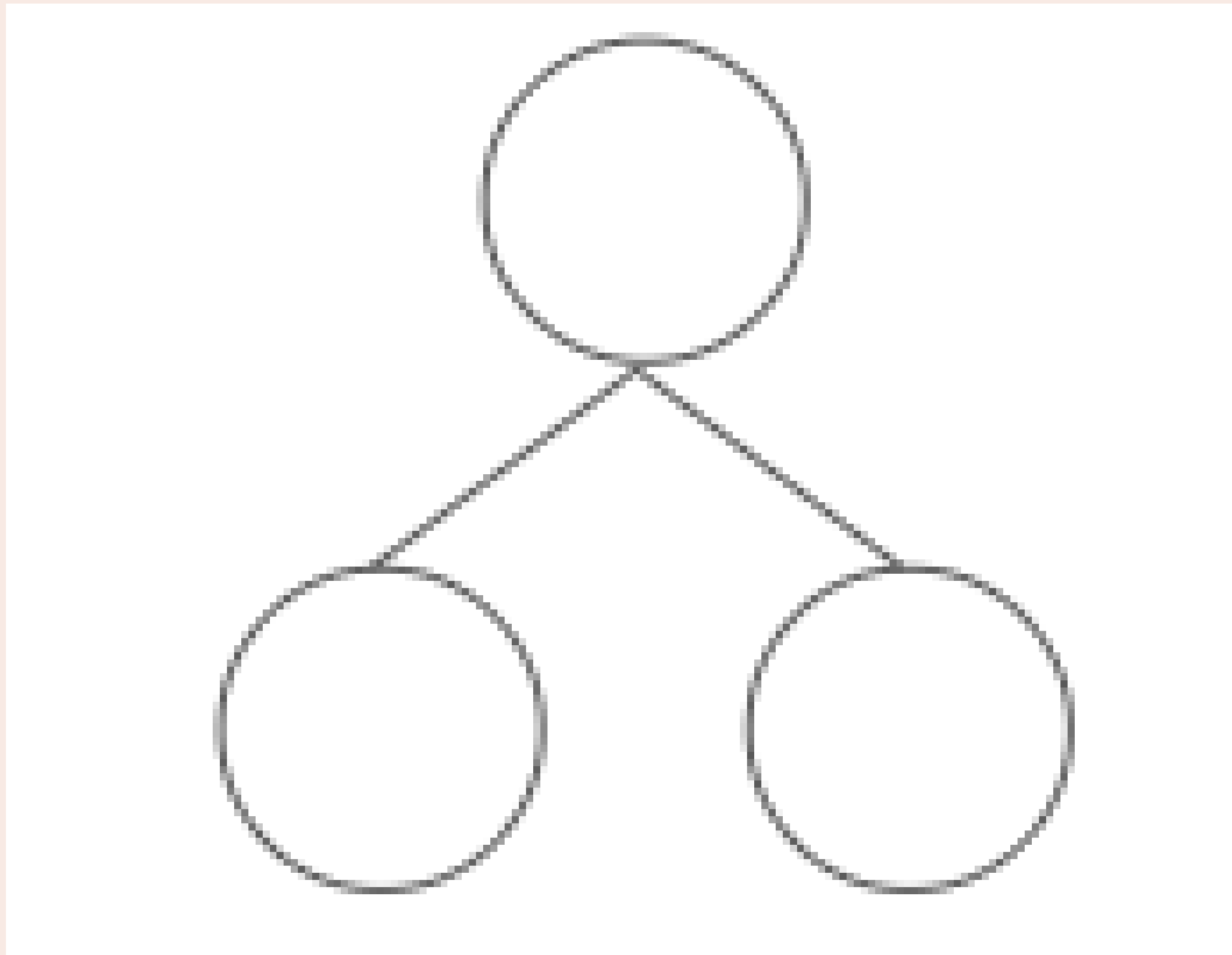
Entonces, $2 + 6 = 8$, Mi hermana debe subir 6 pisos más.



Matemática - Primero Básico


Prof. Mirza Gutiérrez C.

Prof. Nicole Villarroel.





Observa, resuelve y responde.



13 + _____ = 16

2.

7 + _____ = 10

7 + _____ = 12

6 + _____ = 10

6 + _____ = 12

5 + _____ = 10

5 + _____ = 12

3.

8 + _____ = 16


15 + _____ = 20

8 + _____ = 15

10 + _____ = 20

8 + _____ = 13

20 + _____ = 20





Historia matemática

Mateo recogió 30 huevos que pusieron sus gallinas, de estos 10 son de color y el resto eran blancos. ¿Cuántos huevos son de color blanco? ¿Conocemos el total de huevos que recogió Mateo? ¿Cuántos son?





Historia matemática

Páscale recogió 45 manzanas y le regalo 22 a su hermana ¿Con cuántas manzanas se quedo Páscale?





Historia matemática

Victoria hizo 38 pulseras y le regalo 14 pulseras a sus compañeras.

¿Con cuántas pulseras se quedo Victoria?





★ TICKET DE SALIDA ★

Nombre del alumno:

1. Completa la expresión y resuelve:

Julio tiene 19 libros; de estos, 9 son de animales terrestres y el resto son de animales marinos.

- ¿Cuántos libros de animales marinos tiene Julio?

$$\underline{\hspace{2cm}} + \underline{\hspace{2cm}} = \underline{\hspace{2cm}}$$

R: Julio tiene libros de animales marinos.



Matemática - Primero Básico

Prof. Mirza Gutiérrez C.

Prof. Nicole Villarroel.

Tarea:

- Guía de actividades.

