




Matemática - Primero Básico

Prof. Mirza Gutiérrez C.

Prof. Nicole Villarroel

# ORDEN DE NÚMEROS HASTA EL 20

4 y 5 de agosto.





Matemática - Primero Básico

Prof. Mirza Gutiérrez C.

Prof. Nicole Villarroel

# Objetivo

OA 4. Comparar y ordenar números del 0 al 20 de menor a mayor y/o viceversa, utilizando material concreto y/o usando software educativo.



# Ruta de aprendizaje

Conteo, lectura y representación hasta 20.

Aprendamos los números del 10 hasta el 20

Conteo de números de 1 en 1 - de 2 en 2, de 5 en 5 y de 10 en 10.

Contando de 1 en 1 hasta 20

Actividad de conteo hasta 20

AJuego de conteo hasta 20

Actividad de conteo hasta 20

Juego interactivo hasta 20

Desafío Matemático

Actividad formativa

Ticket de salida

Tarea



# Dictado de números.

a.

e.

b.

f.

c.

g.

d.



# Ordenar números





Matemática - Primero Básico  
Prof. Mirza Gutiérrez C.  
Prof. Nicole Villarroel

Aula 365 Ordenar los Números: Número Anterior y Posterior (Parte 1) | Videos Educativos para Niños

Copy link

14

12

10

Watch on YouTube

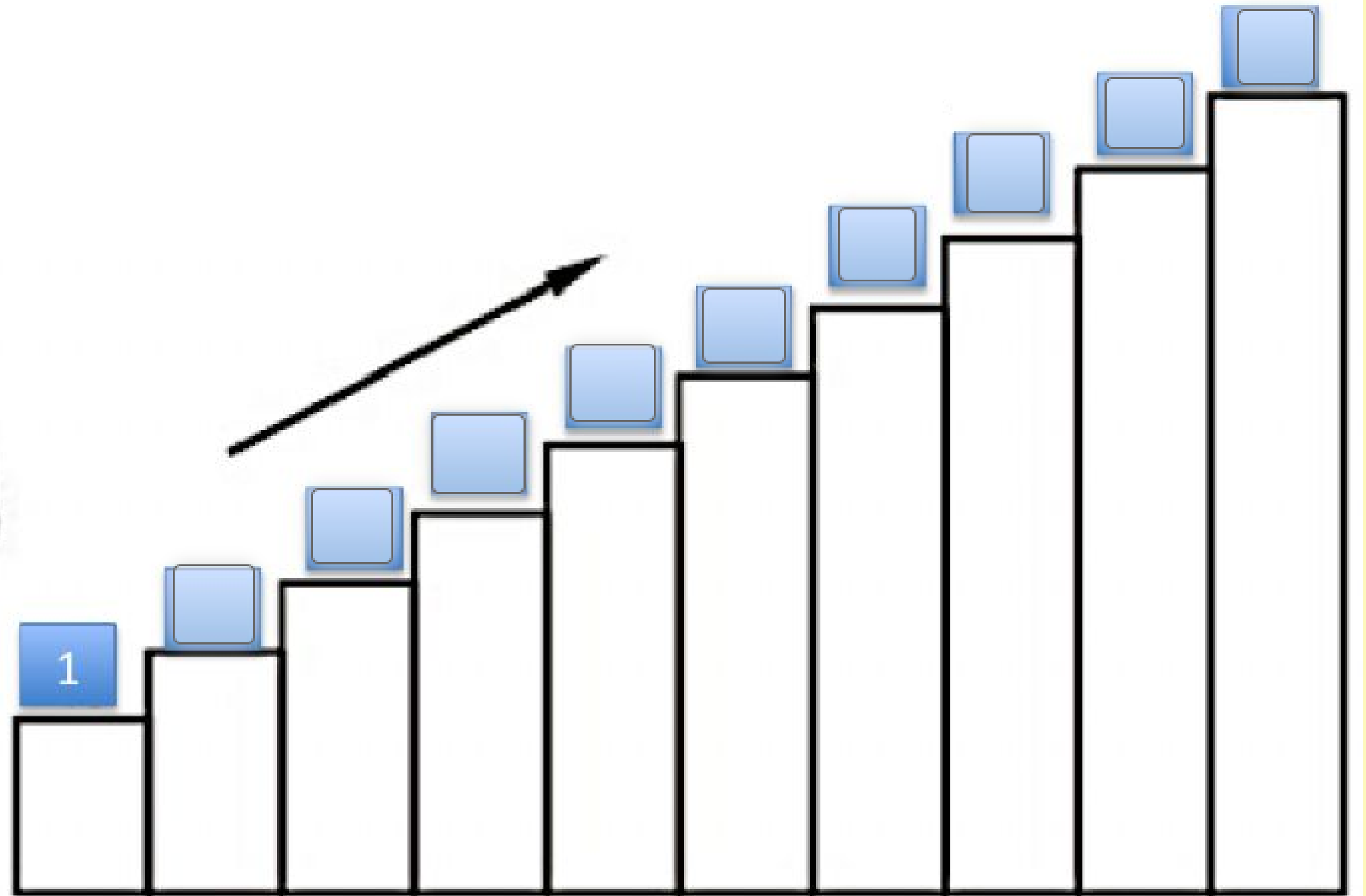


## Actividad en el cuaderno.

Crear 2 escalera en sus cuadernos ascendente y descendente partiendo desde el número 1 al 20, lo hacen con números mayores arriba y menores abajo.



# Escalera ascendente

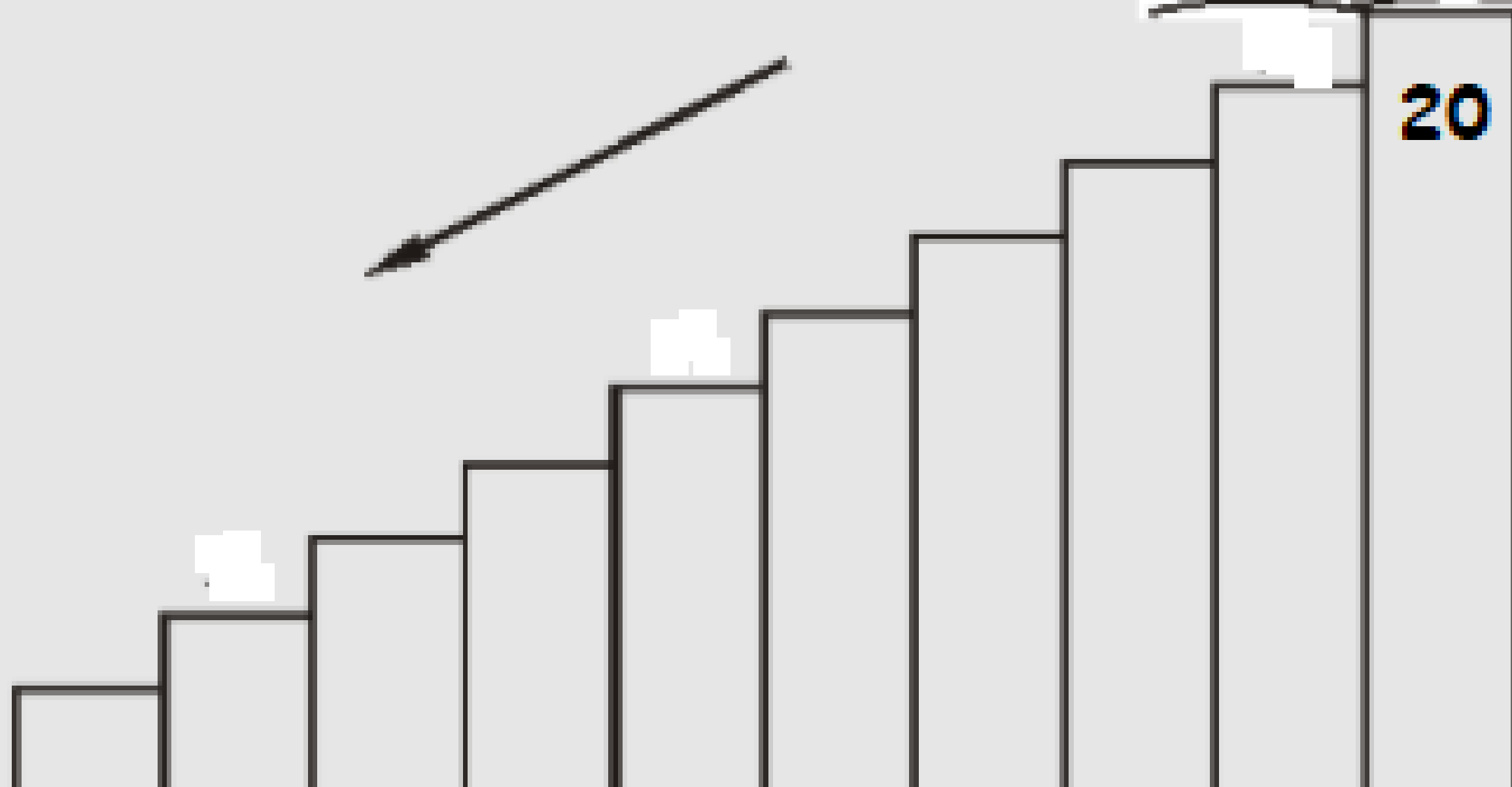






Matemática - Primero Básico  
Prof. Mirza Gutiérrez C.  
Prof. Nicole Villarroel

# Escalera descendente







Ordenar los números hasta el 20.

Nombra los números faltantes.

	2		4	
6		8		10



Ordenar los números hasta el 20.

Nombra los números faltantes.

	12		14	
16		18		20











Completa la tabla con los números faltantes.

<b>1</b>	<b>2</b>		<b>4</b>	<b>5</b>	<b>6</b>		<b>8</b>		<b>10</b>
			<b>14</b>			<b>17</b>	<b>18</b>		







Completa la tabla con los números faltantes.

1	2	3		5
6	7	8		10
		13	14	15















Completa la tabla con los números faltantes.

1	2	3	4	5
6		8	9	
11	12	13		



# Completa la tabla con los números faltantes.

						
1	2		4			
6		8	9	10		
11	12		14	15		
16		18	19			
						



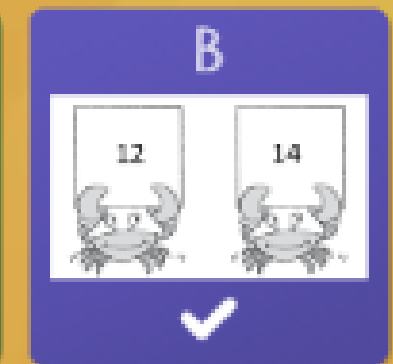
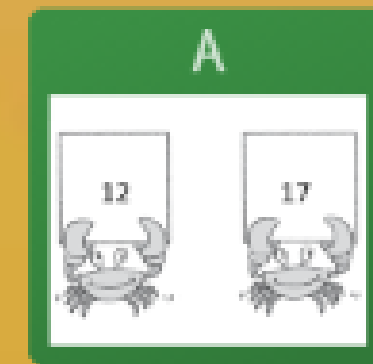
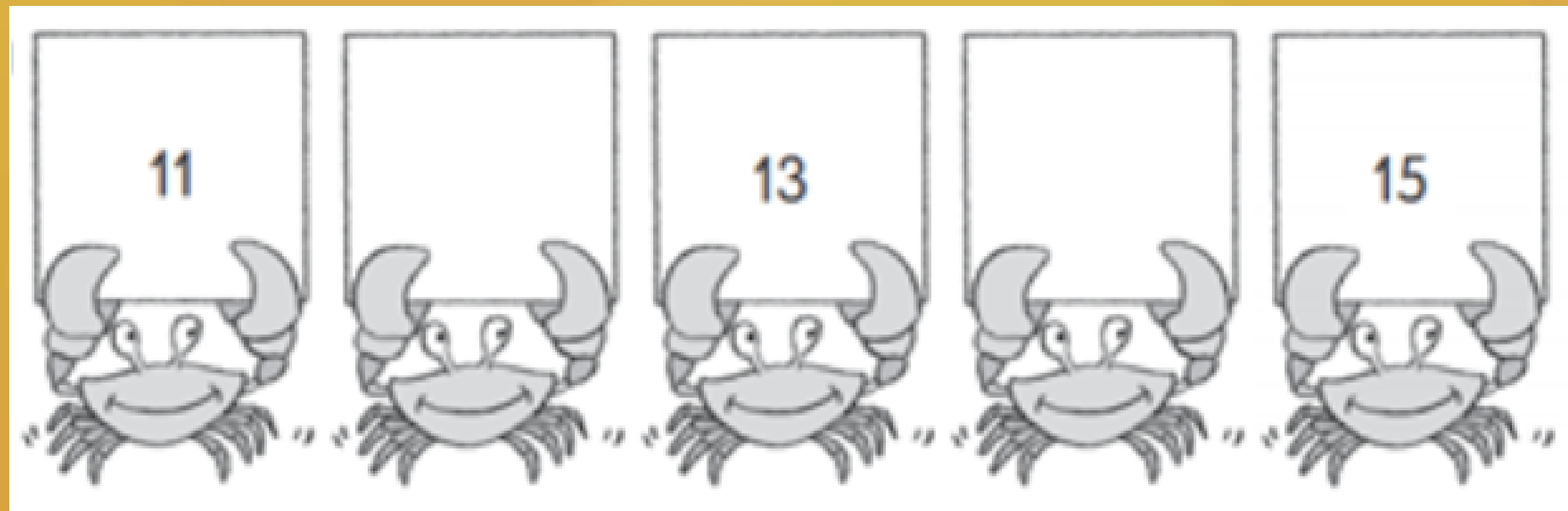


# Juego de números.

0:20

✓ 0

Cuenta hacia adelante y descubre los números que faltan






# Actividad formativa.

- Recortar números del 1 al 20 luego ordenar de forma ascendente y descendente y pegar en el cuaderno.
- Luego escriba en palabras los números.





Cuenta y a continuación escribe en orden los números que faltan.



**Ticket de salida**



Matemática - Primero Básico

Prof. Mirza Gutiérrez C.

Prof. Nicole Villarroel

Tarea:

Texto del estudiante pág. 104 y 105

Cuaderno de actividades pág.80

Guía.

