



Matemática - Primero Básico

Prof. Mirza Gutiérrez C.

Prof. Nicole Villarroel

NÚMEROS HASTA EL 50

25 y 26 de agosto





Matemática - Primero Básico  
Prof. Mirza Gutiérrez C.  
Prof. Nicole Villarroel

# Objetivo

OA 3. Leer números del 0 al 50 y representarlos en forma pictórica y simbólica.



# Ruta de aprendizaje

Dictado de números.

Lectura y  
representación hasta 20.

Aprendamos los  
números del 10  
hasta el 59

Actividades

Actividad formativa

Ticket de salida

Tarea



# Dictado de números

a.

e.

b.

f.


c.

g.

d.

## Observa y responde




- ¿Cuántas bolitas ha contado  ?

- ¿Cuántas bolitas le falta contar?


- ¿Qué número va después del 19?




Aprendamos los  
números del 10  
hasta el 50



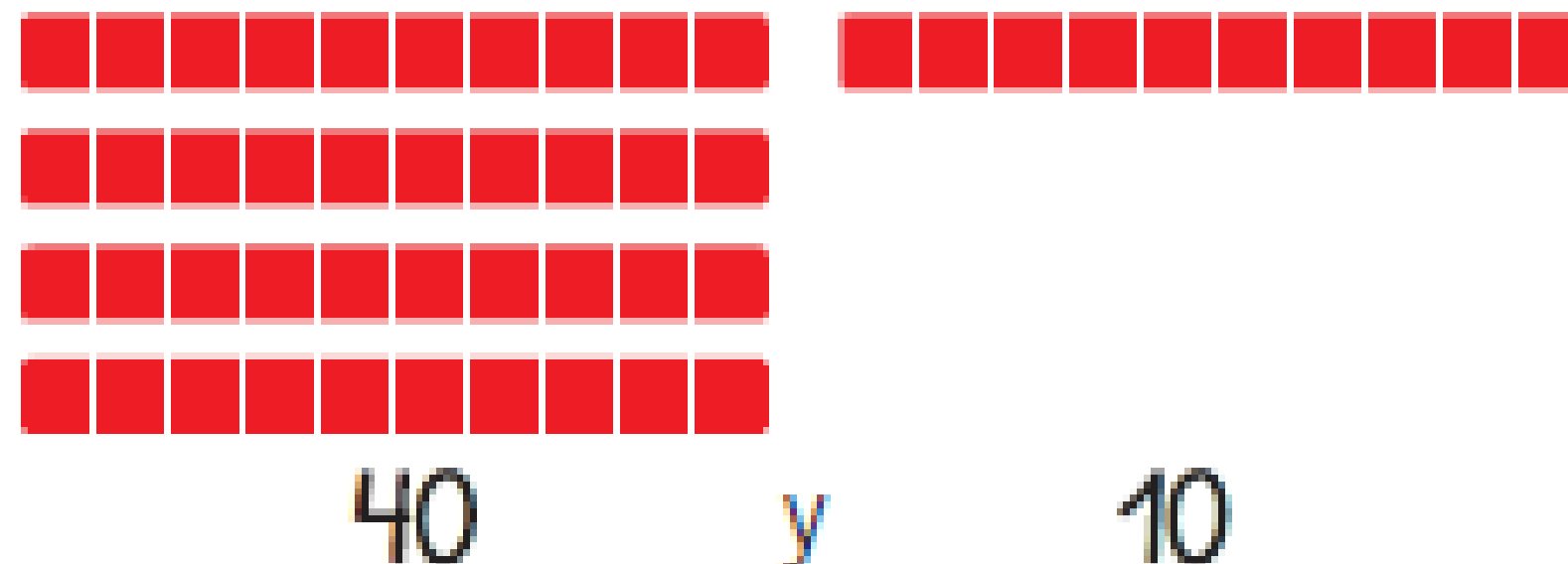
20 veinte



30 treinta



40 cuarenta



50 cincuenta





Nombra los números que faltan.

1		3	4		6		8	9	10
		13		15		17		19	
21	22		24		26		28		30
	32				36		38	39	
41		43	44	45		47	48		50





Nombra los números que faltan.

<b>1</b>	<b>2</b>		<b>4</b>	<b>5</b>	<b>6</b>		<b>8</b>		<b>10</b>
			<b>14</b>			<b>17</b>	<b>18</b>		
	<b>22</b>	<b>23</b>			<b>26</b>		<b>28</b>		<b>30</b>
	<b>32</b>		<b>34</b>	<b>35</b>			<b>38</b>		<b>40</b>
<b>41</b>	<b>42</b>		<b>44</b>		<b>46</b>		<b>48</b>	<b>49</b>	





Nombra los números que faltan.

11, 12, \_\_\_\_\_

10, \_\_\_\_\_, 12

\_\_\_\_\_, 6, 7

17, 18, \_\_\_\_\_

7, \_\_\_\_\_, 9

\_\_\_\_\_, 10, 11

16, 17, \_\_\_\_\_

17, \_\_\_\_\_, 19

\_\_\_\_\_, 15, 16

3, 4, \_\_\_\_\_

1, \_\_\_\_\_, 3

\_\_\_\_\_, 1, 2



Observa y nombra los números que faltan.


											
		3	4	5	6	7	8	9			
11	12	13	14	15	16	17	18	19	20		
21	22		24	25	26	27	28	29	30		
31		33	34	35	36	37	38	39	40		
41	42		44	45	46	47	48	49	50		





# Actividad formativa

En sus cuadernos dibujar los números del 10 al 50, al lado de cada número escribir en palabras la cantidad que indica.





# ticket de salida

Nombre: \_\_\_\_\_

Completa la secuencia con los números que faltan.

21, 31, 41, \_\_\_\_\_, \_\_\_\_\_, \_\_\_\_\_, \_\_\_\_\_

52, 54, 56, \_\_\_\_\_, \_\_\_\_\_, \_\_\_\_\_, \_\_\_\_\_

21, 23, 25, \_\_\_\_\_, \_\_\_\_\_, \_\_\_\_\_, \_\_\_\_\_

30, 40, 50, \_\_\_\_\_, \_\_\_\_\_, \_\_\_\_\_, \_\_\_\_\_



# Tarea: Guía

