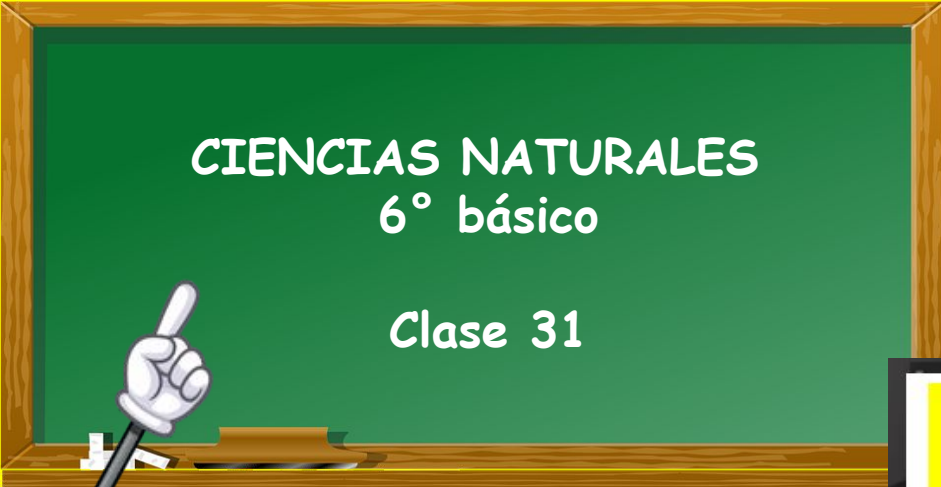


Tabla Periódica de los Elementos
Artesanal de la Universidad del Valle - junio de 2016

Grupos	1	2	3	4	5	6	7	8	9	10	11	12	13	14	15	16	17	18
Periodo																		
1	H	He																
2	Li	Be	B	C	N	O	F	Ne										
3	Na	Mg	Al	Si	P	S	Cl	Ar										
4	K	Ca	Sc	Ti	V	Cr	Mn	Fe	Co	Ni	Cu	Zn	Ga	Ge	As	Se	Br	Kr
5	Rb	Sr	Y	Zr	Nb	Mo	Tc	Ru	Rh	Pd	Ag	Cd	In	Sn	Sb	Te	I	Xe
6	Cs	Ba	La	Hf	Ta	W	Re	Os	Ir	Pt	Au	Hg	Tl	Pb	Bi	Po	At	Rn
7	Fr	Ra	Ac	Rf	Db	Sg	Bh	Hs	Mt	Ds	Rg	Cn	Nh	Fl	Mc	Lv	Ts	Og

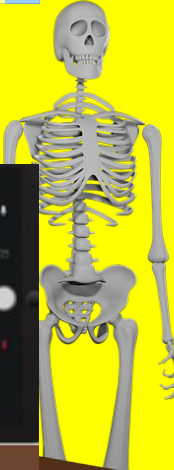



CIENCIAS NATURALES

6° básico

Clase 31

TEMAS



¿Cómo te fue con la actividad pasada?

Autoevaluación		
¿Cómo realice mis tareas en la casa?		
		
Muy bien	Me costó realizar la tarea, pero puedo mejorar	Tuve muchos problemas para realizar la tarea.



CN6°: Clase 30

Maglene Martínez Cofré

Objetivo: OA 5: Describir y comparar los cambios que se producen en la pubertad en mujeres y hombres, reconociéndola como una etapa del desarrollo humano.



1. Compara tus cambios:

HACE 8 AÑOS	HOY
¿Cómo era tu aspecto físico?	¿Cómo es tu aspecto físico?
¿Qué cosas te gustaba hacer?	¿Qué cosas te gusta hacer?
¿Crees que has experimentado cambios en el transcurso del tiempo?	

RESPUESTAS VARIABLES

1. Lee las siguientes descripciones e identifica a qué etapa de la vida corresponden.
Justifica tu respuesta:

Descripción	Etapa de la vida
Pablo prefiere juntarse con sus amigos a jugar videojuegos. Justificación:	ADOLESCENCIA
Tomás ya aprendió a caminar sin ayuda. Justificación:	NIÑEZ
Gloria y Pedro dedican su tiempo a cocinar, tejer y compartir con sus hijos y nietos. Justificación:	VEJEZ
Claudia es secretaria y está a pocas semanas de tener a su primer hijo. Justificación:	ADULTEZ
Pamela ha tenido su primera menstruación. Justificación:	PUBERTAD

LOS AMIGOS SON PARTE IMPORTANTE DE LA VIDA DE LOS ADOLESCENTES

DURANTE LA NIÑEZ SE APRENDE A CAMINAR

POR LO GENERAL, LOS ABUELOS DISFRUTAN DE SUS NIETOS

EN LA ADULTEZ EL SER HUMANO ESTA PREPARADO FISICA Y MENTALMETE PARA SER PADRE

EN ESTA ETAPA LAS MUJERES TIENEN SU MENARQUIA

2. Trabaja en tu cuadernillo, la página 36

2. Comenten reflexivamente ¿qué dificultades tuviste al responder esta actividad? ¿cómo lo resolviste?

3. Completa la tabla anotando los cambios que ocurren en niñas, en niños y en ambos, puedes ayudarte con tu texto en la página 88.

1

3

2

Niños	Ambos	Niñas
VELLO FACIAL Y CAMBIO DE VOZ	AUMENTO DE ESTATURA	DESARROLLO DE MAMAS
ENSANCHAMIENTO DE HOMBROS	APARICIÓN DE ACNÉ	ENSANCHAMIENTO DE CADERAS Y MUSLOS
DESARROLLO DE MUSCULATURA	MADURACIÓN DE SISTEMA REPRODUCTOR	PRIMERA MENARQUIA
PRIMERA EYACULACIÓN		

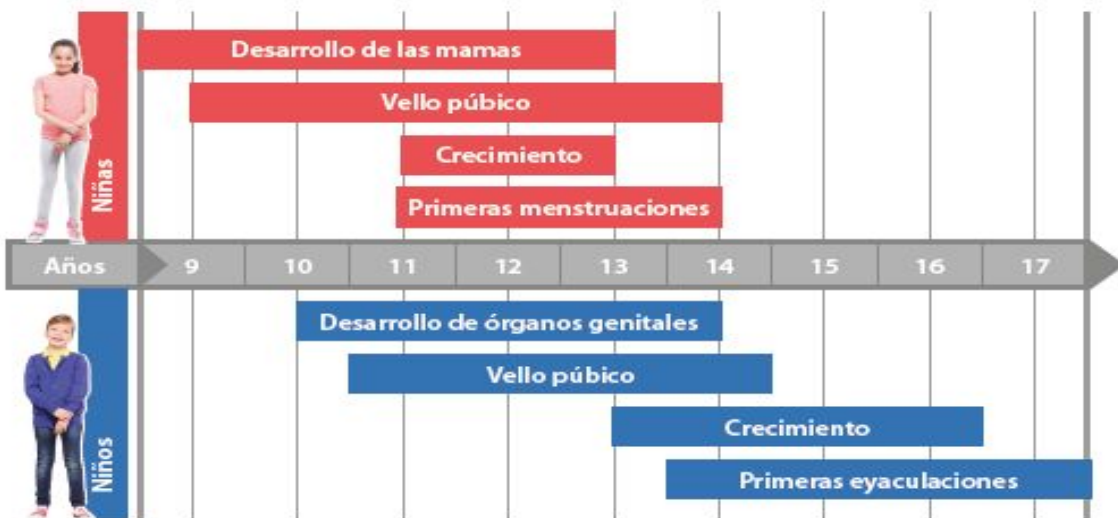
Analizar evidencias

Consiste en estudiar las partes de una información determinada, relacionarlas y explicarlas.

En grupos, realicen la siguiente actividad:

1 Identificar las partes de la información

Analicen algunos de los cambios de hombres y mujeres durante la adolescencia.



a. ¿Qué información deben considerar?

2 Relacionar las partes de la información.

b. ¿A qué edad comienzan los cambios en niñas y niños?

c. ¿Qué cambios son iguales en niñas y niños?, ¿cuáles son diferentes?

A. LOS CAMBIOS FÍSICOS QUE EXPERIMENTAN HOMBRES Y MUJERES EN LAS EDADES EXPUESTAS

B. EN LAS NIÑAS COMIENZAN ANTES DE LOS 9 Y EN LOS NIÑOS A LOS 10

C. EN COMÚN: VELLO PÚBLICO Y CRECIMIENTO.

NIÑAS: MAMAS Y PRIMERA MENSTRUACIÓN

NIÑOS: ORGANOS GENITALES Y EYACULACIONES

1. Observa las siguientes imágenes:

1



2



3



4

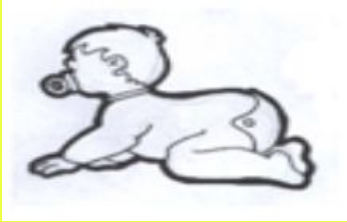


- ¿En qué etapa de la vida se encuentran las personas de las imágenes?
- ¿Qué características diferencia a las personas 1 y 2?
- ¿Qué tipo de actividades desarrollan las personas 3 y 4?

- A. IMÁGENES:
- PUBERTAD Y ADOLESCENCIA
 - NIÑEZ
 - VEJEZ
 - ADULTEZ

B. RESPUESTAS VARIABLES

C. RESPUESTAS VARIABLES



Actividad para la casa.

**TRABAJA EN TU
CUADERNILLO LA PÁGINA 37**

**Revisamos la
próxima clase**

