



Departamento de Matemática

Profesora Rocío Gimeno | Profesora diferencial Claudia Farfán




"CLASE 7: SUSTRACCIÓN DE NÚMEROS DECIMALES"

Objetivo: "Resolver ejercicios de sustracción de números decimales hasta los diezmilésimos"



6tos

B I E N V E N I D O S



Ruta de la clase

1. Sustracción de decimales
2. Ejemplo
3. Hagámoslo juntos
4. Cálculo mental
5. Juego decimales



Lee con atención el siguiente problema:



La profesora Claudia mide 1,73 m. Si la profesora Rocío mide 1,64 m
¿Cuántos más mide la profesora Claudia?

¿Qué operación debemos realizar?

¿Alguna idea de cómo podemos resolverlo?



1,73 m




1,64 m



Pasos para restar



La profesora Claudia mide 1,73 m. Si la profesora Rocío mide 1,64 m
¿Cuántos más mide la profesora Claudia?



PASO 1

Ordenar los números a restar
alineando la coma

1	,	7	3
1	,	6	4

PASO 2

Agregar 0 (ceros) a la derecha en
caso de ser necesario

1	,	7	3
1	,	6	4

PASO 3

Restar de la forma habitual

		6	13
1	,	7	3
1	,	6	4
<hr/>			
0		0	9

PASO 4

Alinear la coma con el resultado

$$\begin{array}{r} \\ \\ \hline 1 \cancel{7} \cancel{3} \\ - 1 6 \\ \hline 0 0 \end{array}$$


6 13

PASO 5

Responder al problema de forma completa

La profesora Claudia mide 0,09 m más que la profesora Rocío

¿Existe alguna diferencia entre la adición y sustracción de decimales?



¡Hagámoslo juntos!



$12,5 - 10,9$

--	--	--	--

$324,59 - 12,3482$

--	--	--	--	--	--	--	--



¡¡Ahora a jugar y practicar los
decimales!!

