

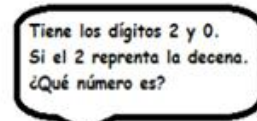
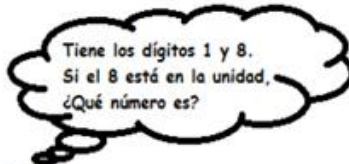
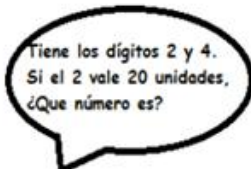


Retroalimentación de la semana del 7 al 11 de septiembre.

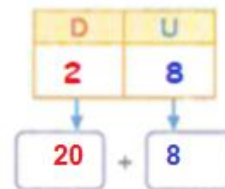
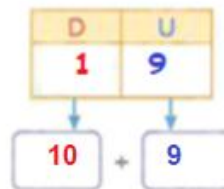
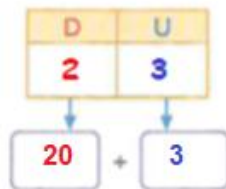
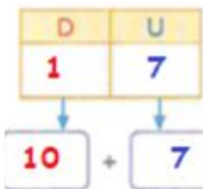
Martes:

1. Actividad en el cuaderno:

Lee y descubre el número de cada super matemático.



2. Escribe el valor que tiene cada número en su posición.



3. Pinta las estrellas a partir de las claves de color.



Si el 1 representa 10 unidades.



Si el 2 representa 20 unidades.



Si el 6 representa 6 unidades.



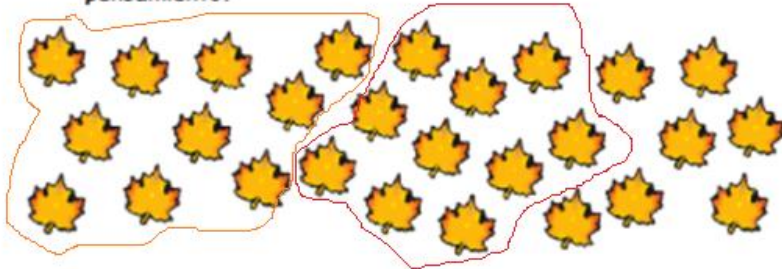
Si el 9 representa 9 unidades.





Desafío matemático.


Cuenta y agrupa en círculos de 10 las hojas.
Responde las preguntas de abajo y explica tu pensamiento.



Yo agrupe en círculos 2 grupo(s) de diez.
Yo tengo 7 unidades de hojas.
Yo tengo 27 hojas en total.

Jueves:

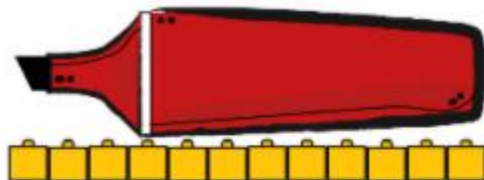
Yo puedo colorear los cuadrados para mostrar la longitud de cada objeto.
Yo puedo escribir el número de la longitud del objeto en el cuadrado rojo.



Lea las siguientes oraciones y diga cuánto mide cada objeto. La lámpara es 8 cuadrados de largo. La palmera es 6 cuadrados de largo. El tiburón es 5 cuadrados de largo. El camaleón es 4 cuadrados de



¿Cuántos cubos de centímetro mide la figura?



Responde la pregunta:

12 cubos

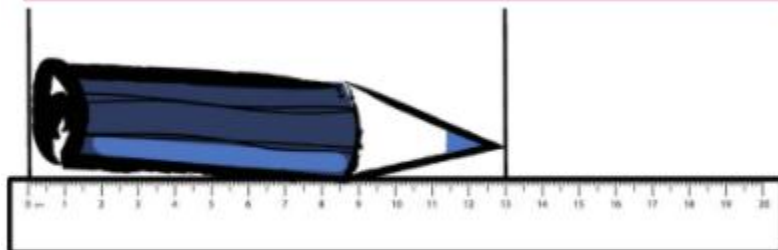
¿Cuántos sujetapapeles mide la figura?



Responde la pregunta:

Mide 3 clips

¿Cuántos centímetros mide la figura?



Responde la pregunta:

Mide 13 cm
