




GUÍA 1 De Aprendizaje Ciencias Naturales Primeros Básicos – Primer semestre

| | |
|----------------|---------------|
| Nombre: | |
| Fecha: | Curso: |

Objetivo: Conocer, identificar y cuidar nuestros órganos de los sentidos.

Unidad 1 Conozco y cuido mi Cuerpo.

Los sentidos.



¡Hola! mi nombre es Picachu, te voy a acompañar en esta aventura de aprender los cinco sentidos que ya estudiamos en clases.

Recordemos:

Los seres humanos tenemos cinco sentidos que nos sirven para conocer y relacionarnos con nuestro entorno.

Estos son:

- a) El gusto.
- b) Olfato.
- c) Vista.
- d) Oído
- e) Tacto.






Los órganos de los sentidos captan impresiones las cuales son transmitidas al cerebro y este las convierte en sensaciones.

Nuestro cuerpo está preparado para percibir lo que ocurre en el ambiente que nos rodea, a través de los sentidos.

Los sentidos los utilizamos para percatarnos, conocer y relacionarlos con nuestro entorno y además para protegernos.

Con la vista vemos lo que pasa a nuestro alrededor, con el gusto reconocemos los sabores, con el olfato olemos que hay en nuestro alrededor, con el oído sentimos todos los sonidos y con el tacto relacionamos las cosas cuando lo tocamos.

| Sentido VISTA | Sentido OÍDO | Sentido OLFATO | Sentido GUSTO | Sentido TACTO |
|---|---|---|---|---|
| Órgano OJO | Órgano OÍDO | Órgano NARIZ | Órgano LENGUA | Órgano PIEL |
|  |  |  |  |  |
| Color Forma Tamaño Distancia | Sonidos Música Ruidos Lenguaje | Olores agradables y desagradables | Salado Dulce Amargo Insípido Ácido Picante | Suave Áspero Frio Caliente Blando Duro |



¡Ahora practiquemos con las siguientes actividades!

I. Completa las siguientes frases con la ayuda de un familiar.

a. Vista es a ojo como tacto es a _____

b. Gusto es a la lengua como olfato es a _____

c. Olfato es a nariz como gusto es a _____











II. Responde.

a. ¿Cuáles son los órganos de los sentidos?

b. ¿Para qué sirven los órganos de los sentidos?

c. ¿Qué sensaciones se conocen a través de los sentidos?

III. Marca con una X el casillero donde corresponda según el sentido que utilizamos para las imágenes que se encuentran en la columna vertical.

| |  |  |  |  |  |
|---|---|---|---|---|---|
|  | | | | | |
|  | | | | | |
|  | | | | | |



IV. Une con una línea el sentido con la imagen correcta.



V. Escribe al lado de cada alimento si es: dulce, salado, amargo, acido.

| | |
|--------------|--|
| CAFÉ- | |
| LIMÓN | |
| MERMELADA | |
| GALLETA | |
| AZÚCAR | |
| PAPAS FRITAS | |
| SAL | |